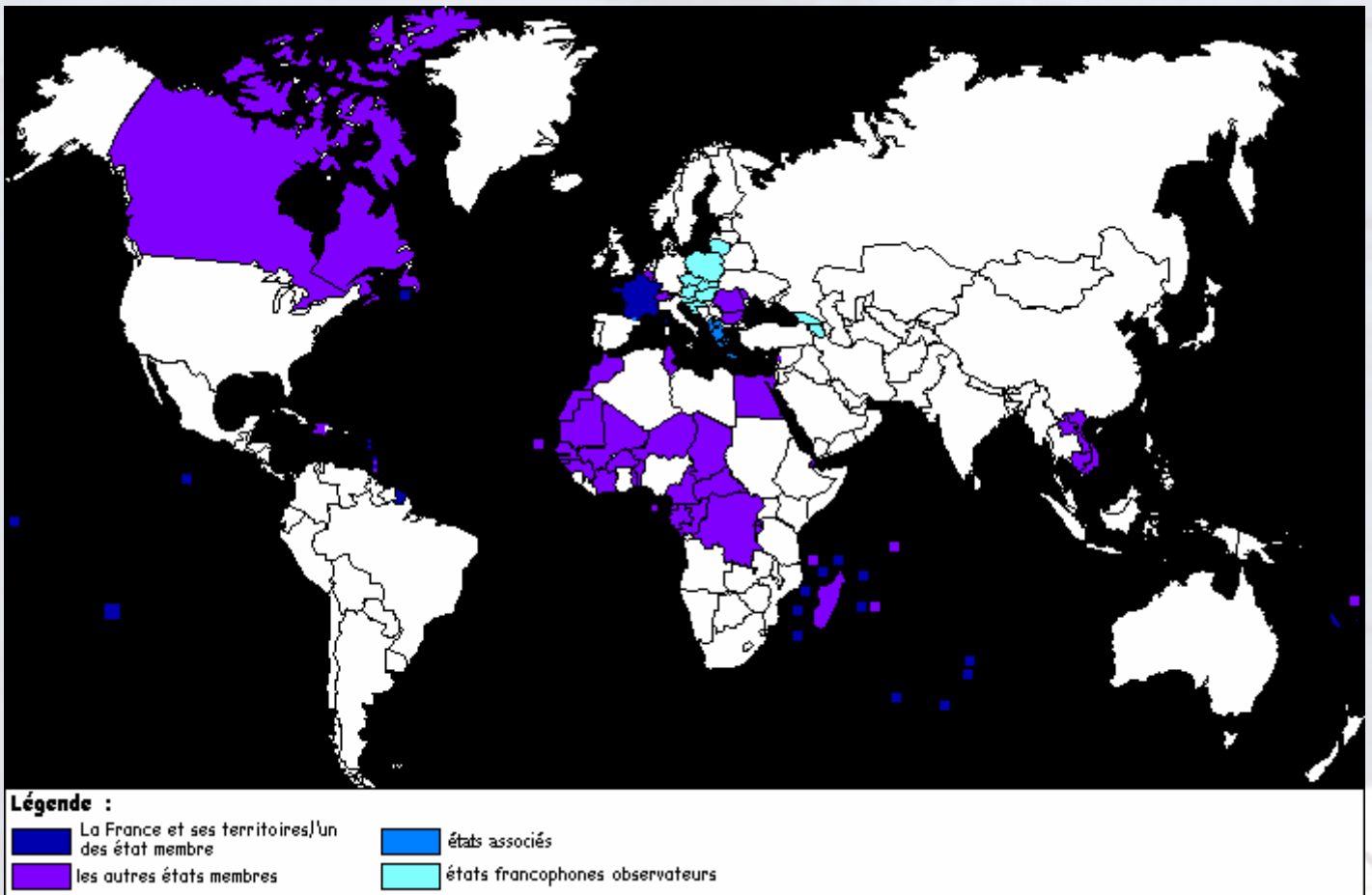


La France dans le Monde



La langue française est utilisée par environ **170 millions de personnes à travers le monde (3% de la population mondiale, 9° langue mondiale)**. On connaît bien la France métropolitaine qui se situe à l'ouest du continent européen. Mais il y a des territoires qui sont sous l'administration française mais qui se localisent loin de l'Europe. Ils sont en bleu foncé sur cette carte ci-dessus. Voici la liste de leurs noms :

**Bassas da India - Clipperton - Corse - Crozet - Europa - îles Glorieuses
Guadeloupe - Guyane - Juan de Nova - Kerguelen - Martinique
Mayotte - Métropole - Nelle-Amsterdam - Nelle-Calédonie - Polynésie fr. - Réunion - île St Martin - île St Barthélemy -
Saint-Paul
Saint-Pierre-et-Miquelon - Terre Adélie - Tromelin - Wallis et Futuna**

Nous verrons, dans les pages ci-dessous, quelques uns de ces territoires français, souvent installés sous le soleil des tropiques. Cette découverte des ces territoires dits « d'outre mer » vous présentera surtout la **diversité culturelle de la francophonie**. La francophonie est une idée qui suppose **une vue internationale de la langue française dans le Monde**. De nombreux pays étrangers utilisent aussi, majoritairement ou partiellement, le français. (**pays en violet sur la carte**). Tout ceci s'explique par **l'histoire et les entreprises coloniales de** la France métropolitaine surtout lors des XVIII et XIX ème siècle. La langue française est aujourd'hui une langue internationale et elle intéresse à ce titre de nombreux pays qui participent aux manifestations pour l'utilisation de la langue française dans le monde (« **Etats associés** » et « **Etats observateurs** »- **pays en bleu clair**). Ce qui est important ici, dans l'idée de la francophonie, c'est de **protéger la diversité culturelle internationale**. Tel est le message politique de la francophonie.

Mais allons maintenant découvrir cette diversité en admirant des îles et des territoires souvent paradisiaques ! Nous verrons seulement 6 de ces territoires d'outre mer. Découvrez, si vous le désire sur l'Internet, les autres territoires français en allant sur : <http://fr.franceguide.com/>

Commençons notre découverte « tropicale » de la France par l'île de « **Saint Barthélemy** »!

SAINT BARTHELEMY

Consultez tout d'abord le site suivant :

www.saintbarth-tourisme.com

(puis allez sur : « **se documenter** », puis « **géographie** »)

Questions :

Où se situe cette île ?.....

Quel est le nom de l'océan ?.....

Quel est le **climat dominant** de cette île?.....

Quels sont les catastrophes naturelles qui peuvent survenir à **Saint Barthélemy** ?.....

Quelle est la **superficie** de cette île ?.....

Quel est le **surname** de cette île ?.....

Combien de personnes vivent sur cette île ?.....

Quel est l'**animal** qui est le symbole de cette île ?.....

Quelles sont les **deux périodes climatiques** de cette île ?.....

Quel est le plat traditionnel nommé « **Ti -Sec** » ?.....

Comment se nomment les maisons traditionnelles de **Saint Barthélemy** ?.....

Indiquez sur cette carte ci-dessous le **nom des villes** et où se situent les montagnes (**brun**) et les plaines (**vert**)



La Guyane

Consultez le site Web suivant :

www.tourisme-guyane.com

Questions :

- Où se situe ce territoire ?.....
- Quels sont les **pays frontaliers** qui entourent ce territoire français ?.....
- Quel est le nom de **la mer** qui borde ce territoire ?.....
- Quel est le nom de **la forêt** qui occupe une large partie de la Guyane ?.....
- Quel est le nom du **fleuve principal navigable** en Guyane ?.....
- Que sont les « **marais de Kaw** » ?.....
- Quels sont **les animaux protégés** dans ces marais ?.....

Mettez sur cette carte le nom des principales villes et le noms des cours d'eau.

Quelle est l'activité scientifique que l'on poursuit depuis des années à **KOUROU** ?.....

.....

Pourquoi le nom d'**Ariane** est connu à **Kourou** ?.....

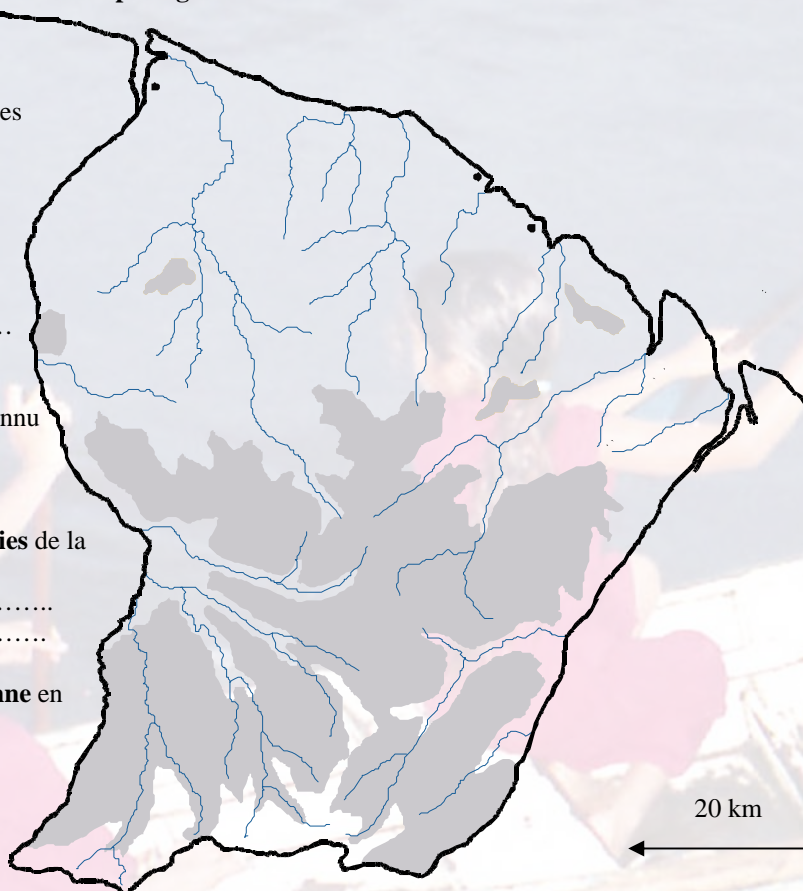
.....

Quelles sont les **principales ethnies** de la Guyane ?.....

.....

.....

Quelle est la **température moyenne** en Guyane ?.....



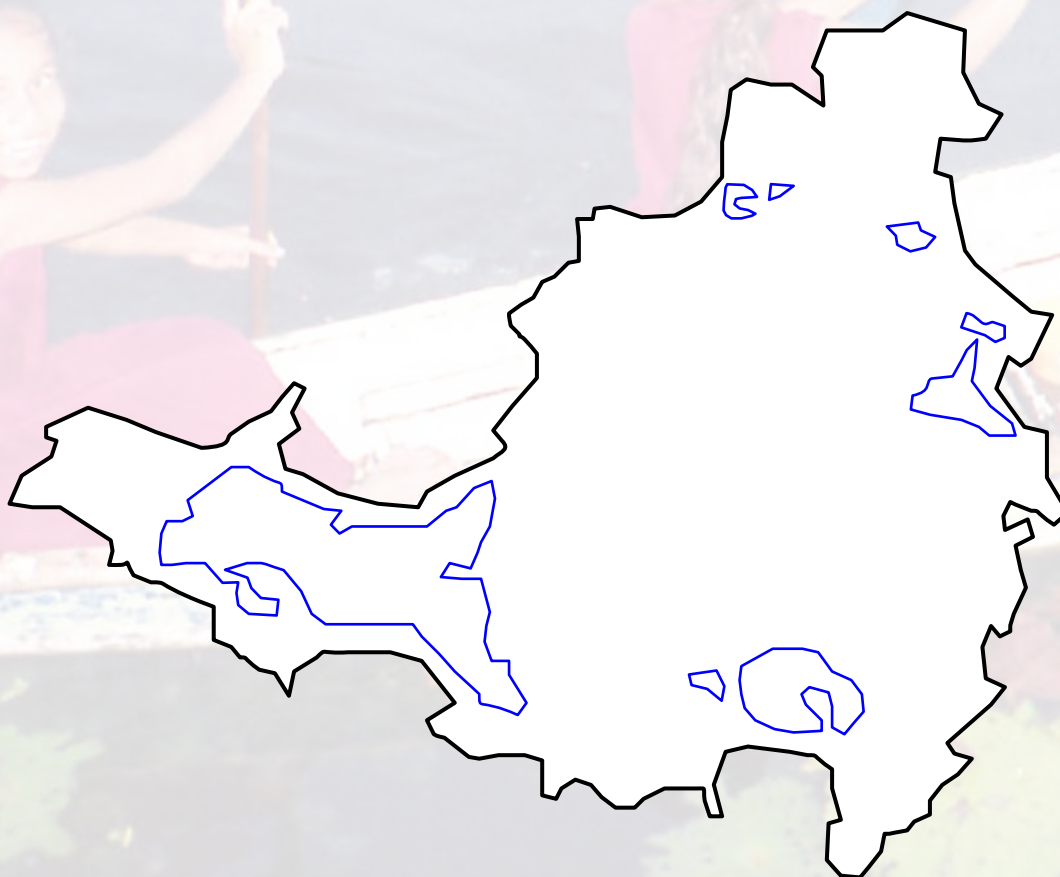
Site Web : consultez le site suivant :

<http://www.st-martin.org/>

(entrée : « **découverte** » et « **géographie** »)

Consignes :

- Où se trouve cette île ?.....
 - Où vit la **majorité de la population** ?.....
 - Quel est le **climat** ?.....
 - Quel est le nom de l'**océan qui se trouve à l'est** de cette île ?.....
 - Quel est le nom de la mer qui se trouve à l'ouest ?.....
 - Quels sont les **autres îles proches** de St Martin ?.....
 - Pourquoi autant d'îles dans cette région du monde ?.....
 -
 - Quel est le **profil de la population** ?.....
 - Concernant la **faune**, quels types de poisson sont **uniques** ?.....
 -
 - Qu'est ce que le « **monde coralien** » ?.....
 -
 - Que veut dire « **étagement de la végétation** » ?.....
 -
- Ecrivez le **nom des villes et des mers** sur la carte ci-dessous :



LA GUADELOUPE

Site Web : Consultez ce site :

<http://www.lesilesdeguaadeloupe.com/>

Consignes :

Où se trouve cette île ?.....

Vous distinguez combien **d'éléments terrestres** constituant cette île ?..... Comment se nomment chacune de ces **parties** ?

Où se trouvent les **principales villes** ?**Situez les sur cette carte et écrivez le nom des villes.**

Quel est le **secteur d'activité dominant** ?.....

Quel est le **nom des mers** qui entourent cette île ?.....

Quel est le **climat dominant** ?.....

Quelles sont les **productions agricoles** de cette île ?.....

Quel est le type d'agriculture qui existe dans votre pays ?.....

.....
Que veut dire « **tradition créole** » ?.....

Comment se nomme le **bras de mer** qui sépare les deux parties de l'île ?.....

Comment se nomme le **volcan** de cette île ?.....

Quels sont **autres îles rattachées** à la Guadeloupe ?.....**Situez les sur cette carte.**



15 km



LA REUNION



Regardez ce site :

www.la-reunion-tourisme.com

Consignes :

Où se trouve cette île ?.....

Situez ces villes sur la carte ci-dessus.

Quelle est l'**activité économique** majeure de ce territoire ?.....

Quel est le **nom de l'océan** qui entoure cette île ?.....

Que signifie le mot « **archipel** » ?.....

Pourquoi **la Réunion** fait partie d'**un archipel** ?.....**Nom** de cet archipel ?.....

Quel est le **relief** de cette île ?.....

Où se trouvent **montagnes et plaines** ?.....

Représentez **en vert les plaines et en brun les montagnes**

Quel est le **climat** de cette île ?.....

Quel est le climat dans votre pays ?.....

Est il très différent ?.....

Pourquoi ?.....

Que sont le « **Piton des Neiges** » et le « **Piton de la Fournaise** »?.....

Quels sont les **3 grands cirques naturels** de cette île ?.....

Les situer sur cette carte. Que sont des **lagons** ?.....

Que peut on voir à la « **Sucrerie de Bois Rouge** » ?.....

LA MARTINIQUE

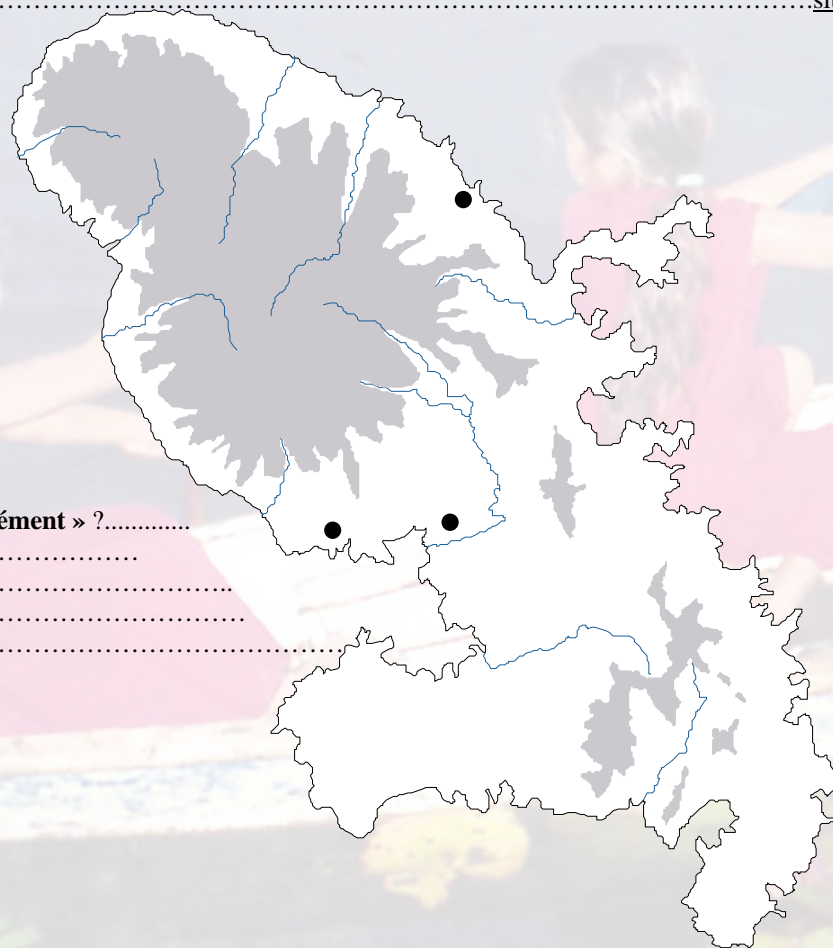
SITE : Consultez tout d'abord ce site !

<http://www.martiniquetourisme.com/>

Consignes :

- Où se trouve **cette île dans le monde** ?
- Complétez cette carte** : écrivez le nom des villes. Représentez **en brun** les montagnes et **en vert** les plaines.
- Quel est le nom de l'océan qui entoure cette île ?.....
- Où vit la **majorité de la population** ?.....
- Quelle est l'**activité économique** principale de cette île ?.....
- Quel est le **type de climat** que connaît ce territoire ?.....
- Concernant la flore, que sont les « **bougainvilliers** », les « **roses de porcelaine** », les « **alamandas** » ?.....
-
- Qu'est ce que la « **Montagne Pelée** » ?..... situer sur cette carte.
- Qu'est ce que la « **Pagerie aux Trois-Ilets** » ?.....
-situer sur cette carte

Qu'est ce que
« **L'Habitation Clément** » ?.....
.....
.....
.....



15 km